













# REKENEN MET GELD

10  
20  
30

Vergelijk de bedragen. Kruis het hoogste bedrag aan.

	  
<input type="checkbox"/>	<input type="checkbox"/>

   	
<input type="checkbox"/>	<input type="checkbox"/>

   	
<input type="checkbox"/>	<input type="checkbox"/>

O nee! Je bent wat van je centjes verloren. Ontdek welke munt of briefje je mist.

Het geld dat je nog over hebt

Eerder bedrag

Missend briefje of munt

1   
  
  
  
  
  


€ 1,20

2   
  
  


€ 5,00

3   
  


€ 11,50

4   
  
  
  


€ 1,40

Verbind dezelfde bedragen met elkaar door een lijn te trekken








**Wat moet je betalen? Kruis het juiste antwoord aan**



Het duurste is:

Het goedkoopste is:

**Alle eurobiljetten & munten**

